

سؤالات عمومی

ادبیات (۹ دقیقه)

- ۱- قاپوچی معنی کدام کلمه است و چه لغتی است؟
۲- «ضمیر» یعنی:
۳- املائی کدام گزینه با توجه به معنی مقابل غلط است؟
۴- کلمه‌ی «پرهیزکارانه» چند تکواژ دارد؟
۵- قواعدی که به ما کمک می کند تا بتوانیم از ترکیب تکواژها یا واژه‌های مناسب گروه‌های اسمی قیدی و فعلی مناسبی تولید کنیم چه نام دارد؟
۶- «جمله‌ی ی خنجره ی دل نگران پرپر شدن است» چه آرایه‌ای ندارد؟
۷- به دست و پای مردن کنایه است از:
۸- موضوع اصلی کتاب «تاریخ بیهقی» در کدام گزینه آمده است؟
۹- «وی یا امیر علیشیر نوایی معاصر بوده و پس از وفات وی کتاب «خمسة المتحیرین را به یادگار او ساخت» مربوط به کدام گزینه است؟
۱۰- کدام گزینه برای معنای «معاش» در بیت «معاش اهل مروت بدین نَسَق بوده است که جان خود به مروت نثار می کردند» مناسب تر است؟
۱۱- گویند و مخاطب بیت زیر به ترتیب چه کسانی هستند؟
۱۲- معادل امروزی عبارت «وی نیک از جای بشد» چیست؟
۱۳- «بر خویشتن می ژکید» یعنی
۱۴- «عین الجمع السالم للمؤنث»؟

معارف اسلامی (۹ دقیقه)

- ۲۶- پیامبر اکرم(ص) در حدیث «اذا رأیتُم الربیع فاکثروا ذکر النشور» دیدن چه چیزی را دلیلی بر یاد کردن از قیامت دانسته است؟
۲۷- شناخت درست از انسان به کدامیک از موارد زیر منجر می شود؟
۲۸- براساس دیدگاه پیامبراکرم(ص) کدام دسته از مسلمانان اگر بمیرند بر شعبه‌ای از نفاق مرده‌اند؟
۲۹- از دیدگاه امام‌راحل(ره) فاضله انسانی چیست؟
۳۰- اولین حکومت اسلامی در کدام شهر و توسط چه کسی تشکیل شد؟
۳۱- مکه- پیامبر اکرم(ص)
۳۲- خواست فرمانده لشکر و تلاش سربازان با هم چه ارتباطی دارند؟
۳۳- اساسی ترین عاملی که انسان را به کمال شایسته‌اش می رساند کدام است؟
۳۴- کدام میل انسانی ریشه دارتر است؟
۳۵- نظام دنیا به گونه‌ای نیست که همه به پاداش و کیفر اعمالشان برسند این نص لزوم کدام را ثابت می کند؟
۳۶- چه حکومتی مشروعیت دارد؟
۳۷- کلمات «موت» و «حیات» با مشتقاتشان چند بار در قرآن آمده‌اند؟
۳۸- کيفراسلامی برای کسی که در زمین فساد می کند کدام مورد است؟

انگلیسی (۱۰ دقیقه)

- 39-A large crowd collected around the square. They didn'tof anything.
40-You can.....your drug in that pharmacy.
41-In this institute, a new.....of teaching English is used.
42-.....should more on Sidewalk to be safe while walking.
43-The big bookshelf takes up too much..... I can't put it in this part of the house.
44-.....men live in cares because they couldn't build a shelter for themselves.
45-Thisradio has many listeners who love music and game.
46-He talks so much. I wish he.....
47-We could afford the car if itso expensive.
48- He isenergetic person that he works a whole day without feeling tired.
49-“I'm not able to carry it to the second floor. would you help me?”
50- Your coat is really dirty. Why don't you have it.....

سؤالات اختصاصی

درک عمومی هنر (۹ دقیقه)

- ۵۱- تصویر مقابل است.
۵۲- اتحاد مصر علیا و سفلا توسط چه کسی و در چه قری صورت گرفت؟
۵۳- انگیزه آفرینش آثار نقاشی انسانهای غارنشین کدام است؟
۵۴- کدام شکل، معرف زمین و نمادی از جهان مخلوق است؟
۵۵- کتاب «بت های ذهنی و خاطره ازلی» نوشته کیست؟
۵۶- در طبیعت، طیفهای رنگی کدام طول موج قابل رؤیت هستند؟
۵۷- کدام خوشنویس، خط نسخ را از شیوه یاقوتی به شیوه ایرانی تغییر شکل داد؟
۵۸- کدام گزینه، وجه اشتراک دو مکتب نقاشی امپرسیونیسم و رومانسیسم است؟
۵۹- تصویر مقابل، چه نوعی خطی است؟
۶۰- تعدادی صداهای موسیقی را گویند که دربی هم - و بیشتر در یک بخش- اجرا یا شنیده شود.

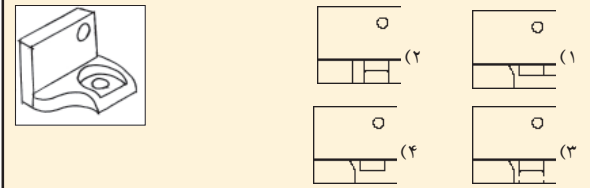
درک عمومی ریاضی و فیزیک (۱۲ دقیقه)

- ۶۱- غلظت رنگ به حجم ۴ لیتر بایستی به میزان ۳۰٪ کم گردد، چند سانتی متر مکعب تینر باید به رنگ اضافه شود؟
۶۲- مطلوب است مقدار x در سری اعداد زیر:
۶۳- در شکل مقابل مساحت قسمت هاشورخورده چه نسبتی از مساحت دایره بزرگ است؟
۶۴- زاویه A در شکل مقابل چقدر است؟
۶۵- شکل مقابل:
۶۶- حجم میان استوانه و مخروط چقدر است؟
۶۷- در مثلث مقابل اندازه AH چقدر است؟
۶۸- اگر M وسط ضلع BC باشد مطلوب است مقدار AM:
۶۹- در کدام منطقه از کره زمین g=۱ می باشد؟
۷۰- معادله حرکت ذره‌ای بر محور y به صورت y = ۳sin(π/۳t) است در لحظه t=۲s:
۷۱- نمای جانبی شکل مقابل کدام است؟
۷۲- مطلوب است نمای قائم شکل:
۷۳- کدام مورد نمای بالای شکل است؟

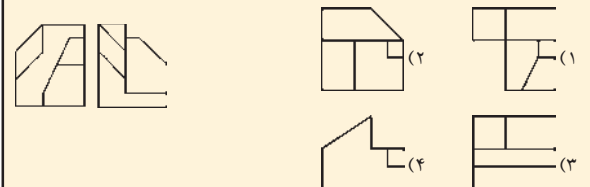
توسیم فنی (۱۲ دقیقه)

- ۷۱- نمای جانبی شکل مقابل کدام است؟
۷۲- مطلوب است نمای قائم شکل:
۷۳- کدام مورد نمای بالای شکل است؟

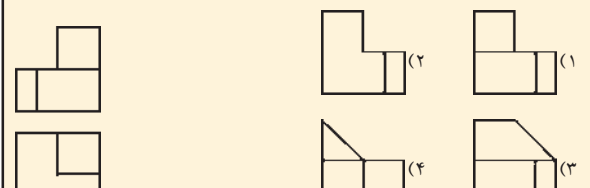
نمای جانبی شکل کدام است؟



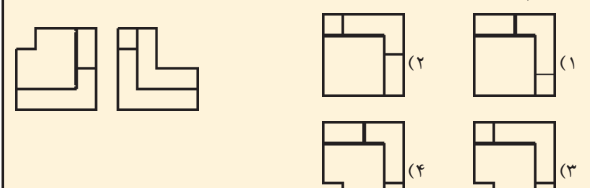
نمای دیگر شکل کدام است؟



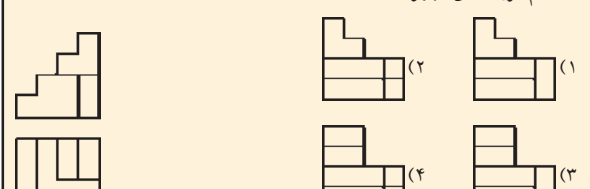
نمای دیگر شکل کدام است؟



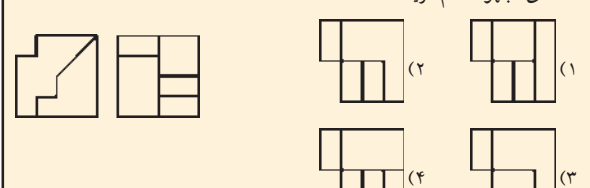
کدام گزینه نمای دیگر است؟



کدام گزینه نمای مجهول است؟



نمای مجهول کدام گزینه است؟



- ۸۰- مثلی که به حالت افقی در پشت صفحه تصویر قرار گرفته است در صورتی که هیچک از اضلاع آن موازی شیشه نباشد، تصویر آن چند نقطه گریز دارد؟
۸۱- سه نقطه گریز
۸۲- چهار نقطه گریز

خلاقیت تصویری و تجسمی (۱۲ دقیقه)

- ۸۱- تنها عاملی که حجم و ساختمانی شیء را در فضای دوبعدی کاغذ تجسم می دهد. است.
۸۲- در تصویر مقابل، نگاه افراد در نمای اول تصویر به سواره‌هایی که از دور می آیند، به القای کدام مفهوم بیش از همه کمک می کند؟
۸۳- تصویر مقابل معرف است.
۸۴- در تصویر مقابل، چه عاملی بیش از همه در ایجاد ژرف‌نمایی موثر بوده است؟
۸۵- در تصویر مقابل، استفاده از تغییر جهت خطوط است.

توسیم فنی (۱۲ دقیقه)

- ۸۶- خطی که بر خط افقی، عمود باشد بیان کننده می باشد.
۸۷- اصطلاح تکسچر به چه معنا است؟
۸۸- در هنر جدید، چه عواملی هنرمندان را وا می‌دارد که بیشتر از تعادل غیرمتقارن در اثر بهره‌جویند؟
۸۹- تابلوی مقابل اثری است از به نام
۹۰- در تصویر مقابل چه عاملی در ایجاد عمق بسیار موثر بوده است؟
۹۱- کدامیک از شاعران زیر اشعاری کودکانه در قالب داستان دارد؟